

Заполни пропуски.

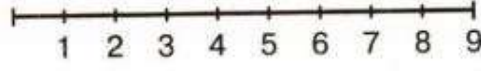
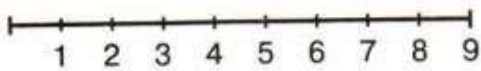
$\square + 5 = 9$

$2 + \square = 9$

$\square + 8 = 9$

$6 + \square = 9$

Выполни действия на числовом отрезке. Запиши ответ.



$9 - 3 - 2 + 4 = \square$

$7 + 2 - 4 - 1 = \square$

Сравни числа, используя числовой отрезок.

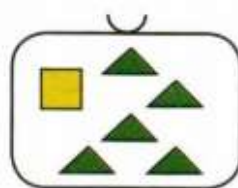
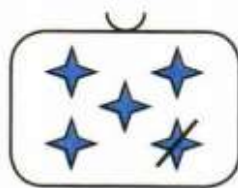
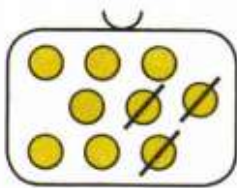
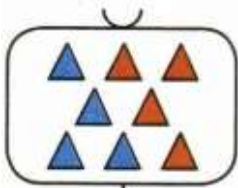
$9 \square 5$

$3 \square 9$

$6 \square 9$

$9 \square 2$

Проведи линии.



$9 - 3$

$4 + 4$

$5 + 1$

$5 - 1$

Заполни пропуски.

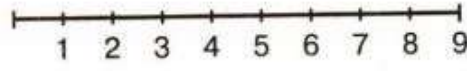
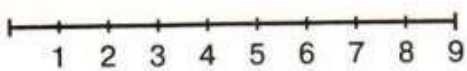
$\square + 5 = 9$

$2 + \square = 9$

$\square + 8 = 9$

$6 + \square = 9$

Выполни действия на числовом отрезке. Запиши ответ.



$9 - 3 - 2 + 4 = \square$

$7 + 2 - 4 - 1 = \square$

Сравни числа, используя числовой отрезок.

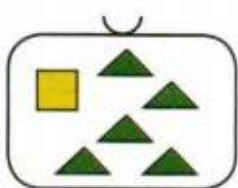
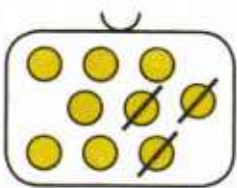
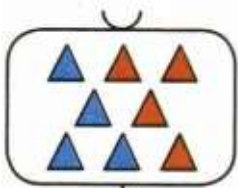
$9 \square 5$

$3 \square 9$

$6 \square 9$

$9 \square 2$

Проведи линии.



$9 - 3$

$4 + 4$

$5 + 1$

$5 - 1$